

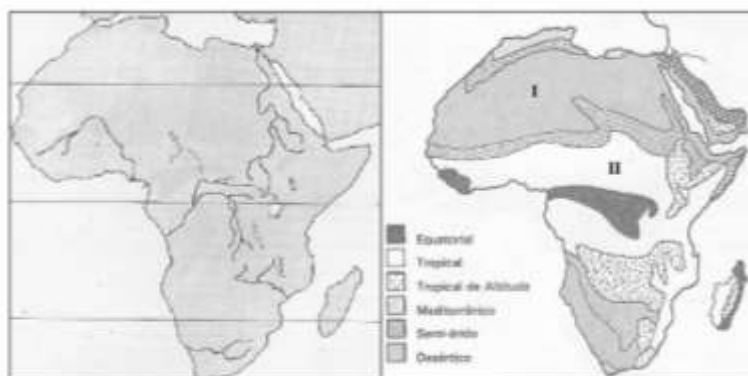


Roteiro de estudos para recuperação final

Disciplina:	Geografia
Professor (a):	Gilson C. Boy Junior

Conteúdo:	Caderno 1 – módulos de 1 a 5 Caderno 2 – módulos de 5 a 9 Caderno 3 – módulos de 10 a 13 Caderno 4 – módulos de 14 a 16
Referência para estudo:	Apostila Anglo, cadernos 1, 2, 3 e 4 Atividades de fixação Aulas sistematizadas (caderno) Paródias para fixação
Sites recomendados:	https://www.colegioweb.com.br/geografia http://www.infoescola.com/geografia/
Atividade avaliativa:	

Questão 1 - Observe, nos mapas a seguir, os principais rios e os seis grandes climas da África



Explique as paisagens vegetais típicas dos climas numerados com I e II.

Questão 2 - Leia o texto histórico, do século XIX, e analise o mapa de uma realidade geográfica do século XXI: A indústria moderna estabeleceu o mercado mundial. A necessidade de um mercado em constante expansão para os produtos industriais deu caráter cosmopolita à produção e ao consumo em todos os países. Em lugar da autossuficiência e do fechamento das fronteiras nacionais temos interações em todas as direções, uma interdependência universal das nações.



Levando em conta o texto histórico, explique a expansão das transnacionais brasileiras na atual era da globalização

Questão 3 - Observe os dados populacionais dos dois países mais populosos do mundo:

COMPARAÇÃO ENTRE PAÍSES ASIÁTICOS (Dados referentes a 2015)		
País	China	Índia
Extensão territorial (Em km ²)	9 596 960	3 287 263
População absoluta (Em milhões)	1.365	1.251
Taxa de Natalidade (Em %)	1,24	1,95
Taxa de Mortalidade (Em %)	0,75	0,73
População urbana (Em %)	56	33
Expectativa de vida (Em anos)	75	68
Taxa de mortalidade infantil (Por mil)	12	42
Taxa de analfabetismo (Em %)	4	29

CIA. The World Factbook 2016.

Considerando os dados apresentados e os conhecimentos geográficos sobre o tema, qual é o país mais populoso e o mais povoado? Explique sua conclusão.

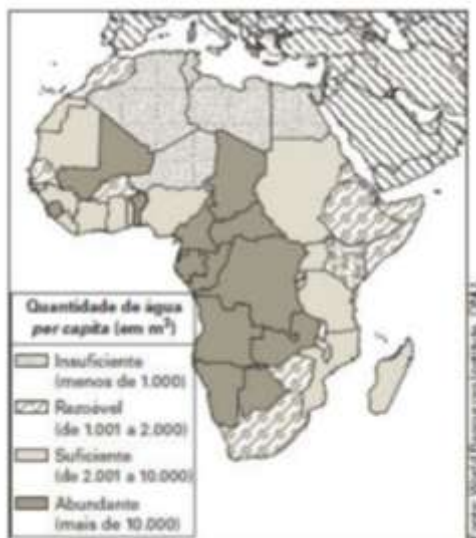
Questão 4 -



Fonte: CIA. The World Factbook 2012.

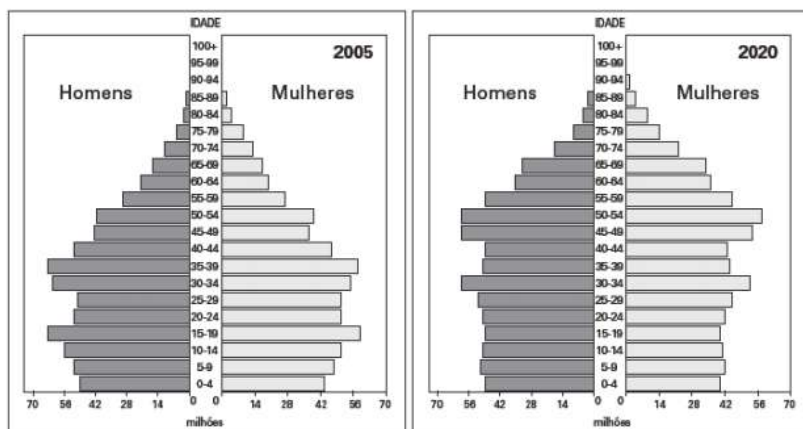
Aponte pelo menos cinco países do mundo onde há maior expectativa de vida e explique por que essas regiões são as que apresentam essa maior expectativa

Questão 5 - A água está se tornando um bem escasso no planeta e, em alguns países da África, o problema já é grave. Observe:



Curiosamente, no entanto, há alguns países do sul da África com abundância de água per capita, embora eles estejam em áreas de clima árido e semiárido. Com base nesses dados e em seus conhecimentos, responda como se explica a presença de mais de 10.000 m³ de água per capita nos países onde estão as áreas desérticas?

Questão 6 - Observe as pirâmides etárias da China, mostradas a seguir.



Com base na figura, explique como será a evolução das taxas de natalidade e mortalidade do país nos próximos anos.

Questão 7 - Um elevado endividamento externo pode comprometer a capacidade de investimento do país, já que ele deve anualmente pagar os juros da dívida, além das amortizações previstas em contrato. Observe os dados da dívida externa de alguns países da América do Sul.

DÍVIDA EXTERNA E SEU PESO NA AMÉRICA DO SUL - 2009		
Ranking - Países	Dívida externa (em US\$ bilhões)	Peso em % do PIB (em PPC)
26 ^o - Brasil	216,1	9,3
32 ^o - Argentina	108,6	21,2
52 ^o - Colômbia	47,3	11,8
53 ^o - Venezuela	43,1	12,3
72 ^o - Equador	13,3	12,3
74 ^o - Uruguai	12,6	28,3

(Fonte: The World Bank: World Development Indicators 2010 e CIA: The World Factbook 2010.)

Com base nos seus conhecimentos sobre a economia da região e na análise dos dados, é possível concluir que:
I - o Brasil, que tem a maior dívida, na verdade é o país que está na posição mais confortável, já que ela representa apenas 9,3% do seu PIB anual.

II - a maior parte dos países da América do Sul deve hoje um montante que representa uma parcela relativamente pequena dos seus PIBs.

III - o peso da dívida do Uruguai é grande, apesar do seu valor ser pequeno, se comparado aos demais países da região.

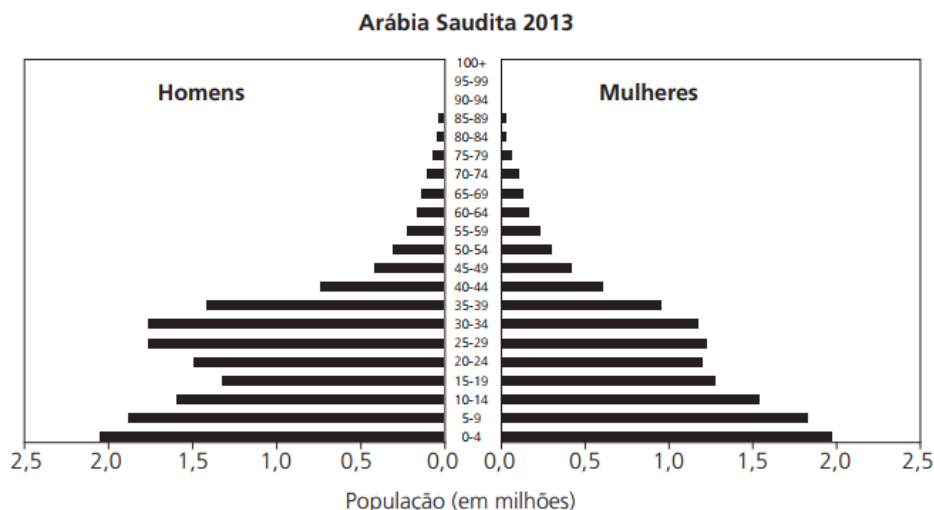
É possível concluir que estão corretas as afirmativas:

- a) I e II
- b) II e III
- c) I e III
- d) I, II e III
- e) Apenas a I

Questão 8 - Em uma entrevista à Info Exame (Para quem vive de tecnologia". São Paulo: Abril, n. 274, dez. 2008. Adaptado.) o pesquisador canadense Don Tapscott, que estuda o uso de tecnologias, quando perguntado acerca do aumento do desnível entre quem tem acesso à tecnologia e quem não tem, respondeu o seguinte: "O divisor digital é um problema, mas está melhorando. Nos países fora do extremo de pobreza, o acesso a ferramentas digitais não é terrivelmente caro para a maioria da população. Obviamente, há famílias que têm dificuldades até para se alimentar, o que torna a experiência de bibliotecas ou centros comunitários com acesso livre à internet muito importante". Quando o pesquisador usou a expressão divisor digital, ele se referia:

- a) ao desnível entre os que têm acesso à tecnologia e os excluídos desse universo.
- b) ao encarecimento das ferramentas digitais nos países em desenvolvimento.
- c) ao acesso a ferramentas digitais para a maioria da população.
- d) à desigualdade entre os países ricos e pobres
- e) à novas medidas de segurança necessárias no mundo virtual

Questão 9 - Observe a pirâmide etária, que revela uma parcela muito grande de homens adultos, fato que também ocorre em outros países do Oriente Médio.



Aponte a alternativa que explica essa anomalia.

- a) Emigração em massa para países desenvolvidos.
- b) Baixa expectativa de vida das pessoas do sexo feminino.
- c) Imigração de grande número de pessoas para trabalhar na atividade petrolífera.
- d) Emigração significativa de mulheres em virtude de perseguições políticas e religiosas.
- e) Alta taxa de natalidade feminina

Questão 10 - (UECE) A respeito do “subdesenvolvimento” é correto afirmar que:

- a) o subdesenvolvimento é uma situação socioeconômica caracterizada por dependência econômica e grandes desigualdades sociais.
- b) antes de serem países desenvolvidos, Inglaterra, França, Bélgica e Alemanha passaram pelo subdesenvolvimento.
- c) neste final de século, a principal contradição da ordem mundial é o conflito Leste x Oeste, isto é, entre os países ricos e os países pobres.
- d) as disparidades socioeconômicas entre os países surgem com as grandes navegações (séculos XV e XVI), daí se formando os países subdesenvolvidos.
- e) é um processo decorrente da má organização política dos países desenvolvidos.

Questão 11 - Considere as afirmações abaixo:

- I. Possui tecnologia nuclear mas ainda não produziu satélites artificiais.
 - II. A produção de carvão é a maior do mundo, no entanto seu potencial hidroelétrico é bastante modesto.
 - III. O arroz, o trigo e o milho ocupam a maior parte das terras destinadas à lavoura.
 - IV. As Zonas Econômicas Especiais (ZEE) - cidades e regiões abertas ao investimento estrangeiro - localizam-se na costa do Pacífico. Correspondem à organização econômica chinesa as características expressas em:
- a) I e II.
 - b) II e III.
 - c) III e IV.
 - d) I e III.
 - e) II e IV.

Questão 12 - (UEL). "Pobre em matérias-primas e em fontes de energia, mas contando com numerosa mão-de-obra, este país tornou-se um dos mais industrializados do Globo, após a Segunda Grande Guerra." O texto refere-se :

- a) à Espanha.
- b) à Alemanha.
- c) à Inglaterra.
- d) ao Japão.
- e) ao Canadá.

VERIFICAR FOLHA DE RESOLUÇÃO EM SEGUIDA



FOLHA DE RESOLUÇÃO: Roteiro de estudos para recuperação final

Disciplina:	Geografia
Professor (a):	Gilson C. Boy Junior
Aluno (a):	
Turma:	

GABARITO – PROIBIDO RASURAS/ QUESTÕES FECHADAS

Nº 01	Nº 02	Nº 03	Nº 04	Nº 05	Nº 06

QUESTÕES ABERTAS

Nº 07	
Nº 08	
Nº 09	
Nº 10	
Nº 11	
Nº 12	